


1 Miss die Länge des Feuersalamanders. In welchem Maßstab wurde er abgebildet?



a



Maßstab _____ : _____

b




Maßstab _____ : _____

2 In welchem Maßstab sind die Tiere abgebildet?

a


Größe in Wirklichkeit: 4 m



Maßstab _____ : _____

b

Größe in Wirklichkeit: 13 mm



Maßstab _____ : _____

3 Leo hat eine Lupe, die 12-fach vergrößert. Wie groß sind die Dinge unter der Lupe?

a

Ein Buchstabe mit 2 mm wird
_____ groß.

b

Eine Zahl mit 3 mm wird
_____ groß.

c

Eine Ameise mit 4 mm wird
_____ groß.

d

Ein Kuchenkrümel mit 1 mm wird
_____ groß.

e

Eine Perle mit 0,7 cm wird
_____ groß.

f

Eine Spinne mit 0,6 cm wird
_____ groß.